

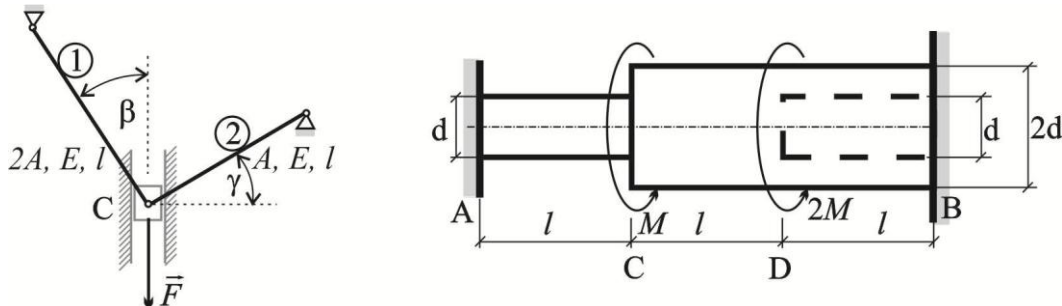
Rad br. 1

PRVI ZADATAK

Za prikazan statički neodređen sistem sa aksijalno opterećenim štapovima odrediti napone u štapovima? Veličine: F, A, E, l, β i γ su poznate. Laki klizač C može da se pomera u vertikalnom pravcu bez trenja.

DRUGI ZADATAK

Za prikazan statički neodređen štap izložen uvijanju odrediti reakcije u uklještenjima A i B (M_A i M_B)? Veličine: M, G, d i l su poznate.



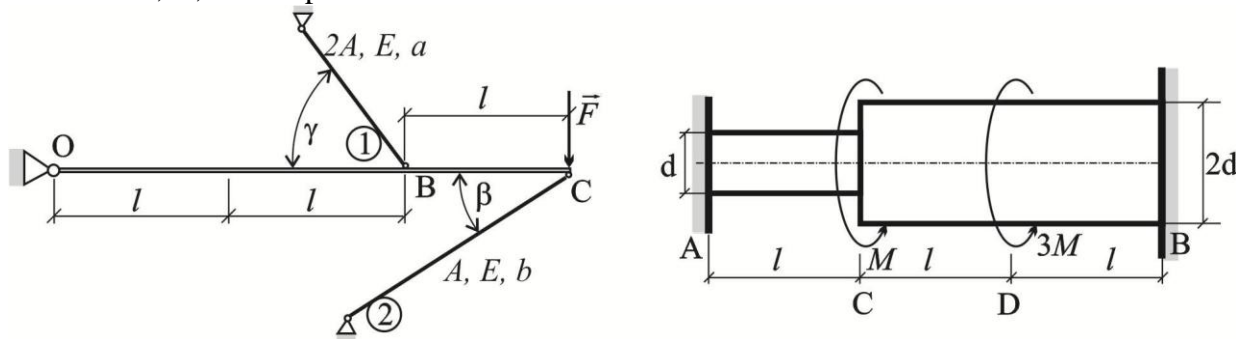
Rad br. 2

PRVI ZADATAK

Za prikazan statički neodređen sistem sa aksijalno opterećenim štapovima odrediti napone u štapovima? Veličine: F, A, E, l, a, b, β i γ su poznate. Laki kruti štap OC može da se obrće u ravni crteža oko nepokretnog zgloba O.

DRUGI ZADATAK

Za prikazan statički neodređen štap izložen uvijanju odrediti reakcije u uklještenjima A i B (M_A i M_B)? Veličine: M, G, d i l su poznate.



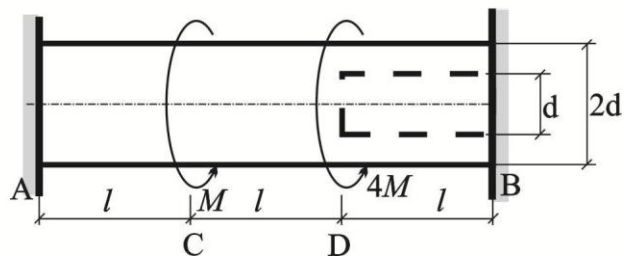
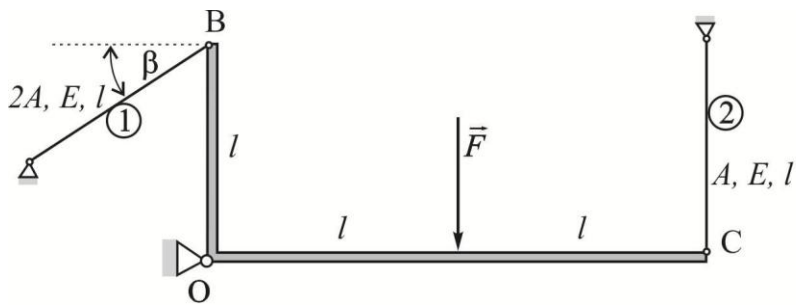
Rad br. 3

PRVI ZADATAK

Za prikazan statički neodređen sistem sa aksijalno opterećenim štapovima odrediti napone u štapovima? Veličine: F, A, E, l i β su poznate. Laki kruti ugaonik BOC može da se obrće u ravni crteža oko nepokretnog zgloba O.

DRUGI ZADATAK

Za prikazan statički neodređen štap izložen uvijanju odrediti reakcije u uklještenjima A i B (M_A i M_B)? Veličine: M, G, d i l su poznate.



Rad br. 4

PRVI ZADATAK

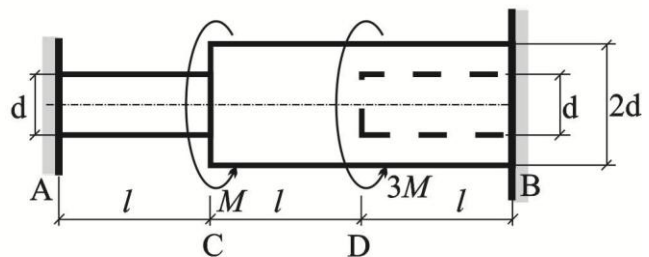
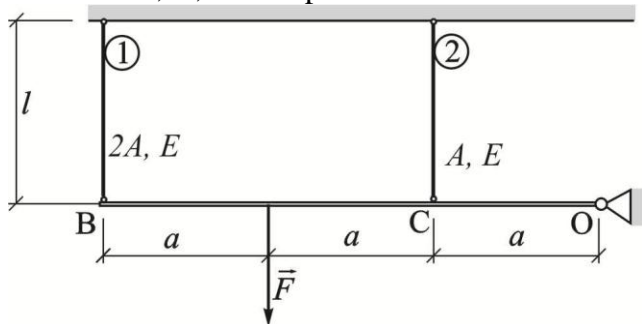
Za prikazan statički neodređen sistem sa aksijalno opterećenim štapovima odrediti napone u štapovima?

Veličine: F , A , E , l i a su poznate. Laki kruti štap OB može da se obrće u ravni crteža oko nepokretnog zgloba O.

DRUGI ZADATAK

Za prikazan statički neodređen štap izložen uvijanju odrediti reakcije u uklještenjima A i B (M_A i M_B)?

Veličine: M , G , d i l su poznate.



Rad br. 5

PRVI ZADATAK

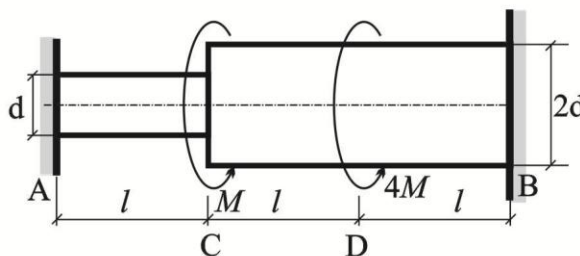
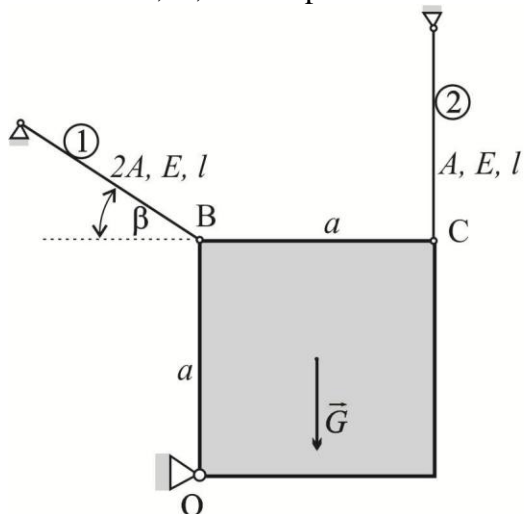
Za prikazan statički neodređen sistem sa aksijalno opterećenim štapovima odrediti napone u štapovima?

Veličine: G , A , E , l , β i a su poznate. Homogena kvadratna ploča težine G stranice a može da se obrće u ravni crteža oko nepokretnog zgloba O.

DRUGI ZADATAK

Za prikazan statički neodređen štap izložen uvijanju odrediti reakcije u uklještenjima A i B (M_A i M_B)?

Veličine: M , G , d i l su poznate.

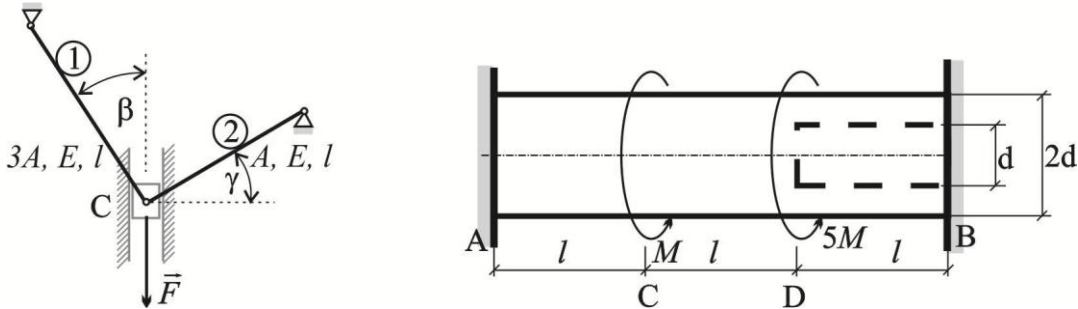


Rad br. 6**PRVI ZADATAK**

Za prikazan statički neodređen sistem sa aksijalno opterećenim štapovima odrediti napone u štapovima?
Veličine: F , A , E , l , β i γ su poznate. Laki klizač C može da se pomera u vertikalnom pravcu bez trenja.

DRUGI ZADATAK

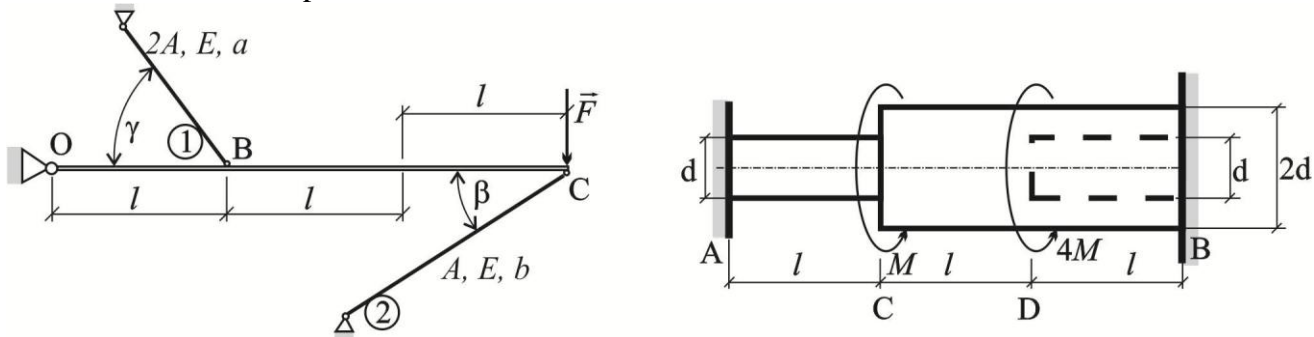
Za prikazan statički neodređen štap izložen uvijanju odrediti reakcije u uklještenjima A i B (M_A i M_B)?
Veličine: M , G , d i l su poznate.

**Rad br. 7****PRVI ZADATAK**

Za prikazan statički neodređen sistem sa aksijalno opterećenim štapovima odrediti napone u štapovima?
Veličine: F , A , E , l , a , b , β i γ su poznate. Laki kruti štap OC može da se obrće u ravni crteža oko nepokretnog zgloba O .

DRUGI ZADATAK

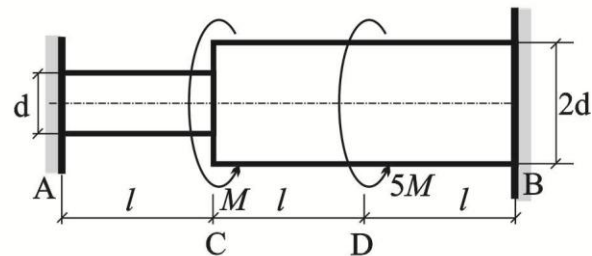
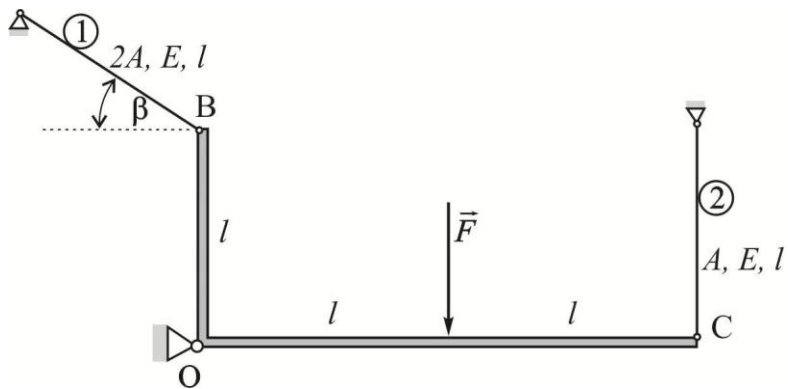
Za prikazan statički neodređen štap izložen uvijanju odrediti reakcije u uklještenjima A i B (M_A i M_B)?
Veličine: M , G , d i l su poznate.

**Rad br. 8****PRVI ZADATAK**

Za prikazan statički neodređen sistem sa aksijalno opterećenim štapovima odrediti napone u štapovima?
Veličine: F , A , E , l i β su poznate. Laki kruti ugaonik BOC može da se obrće u ravni crteža oko nepokretnog zgloba O .

DRUGI ZADATAK

Za prikazan statički neodređen štap izložen uvijanju odrediti reakcije u uklještenjima A i B (M_A i M_B)?
Veličine: M , G , d i l su poznate.



Rad br. 9

PRVI ZADATAK

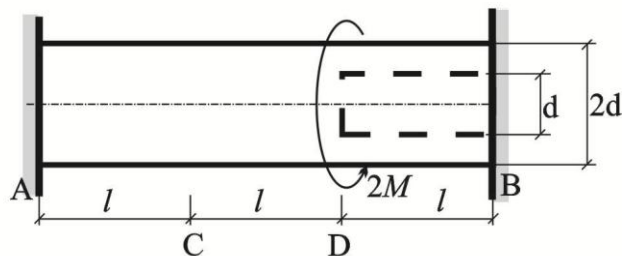
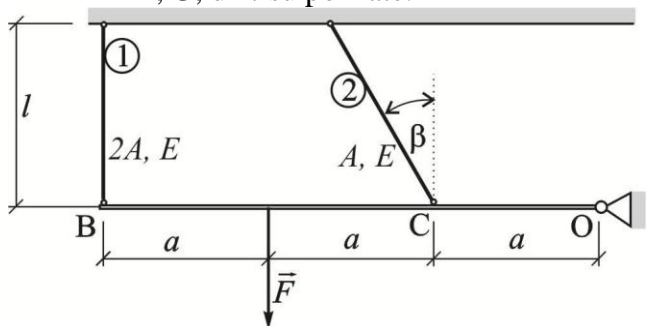
Za prikazan statički neodređen sistem sa aksijalno opterećenim štapovima odrediti napone u štapovima?

Veličine: F, A, E, l, a i β su poznate. Laki kruti štap OB može da se obrće u ravni crteža oko nepokretnog zgloba O.

DRUGI ZADATAK

Za prikazan statički neodređen štap izložen uvijanju odrediti reakcije u uklještenjima A i B (M_A i M_B)?

Veličine: M, G, d i l su poznate.



Rad br. 10

PRVI ZADATAK

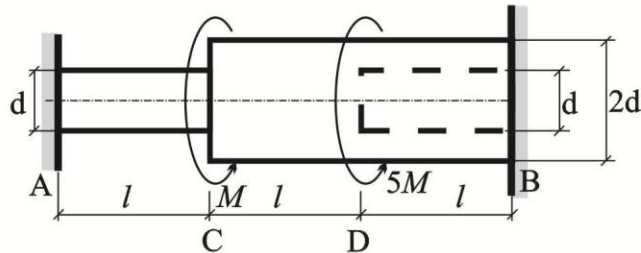
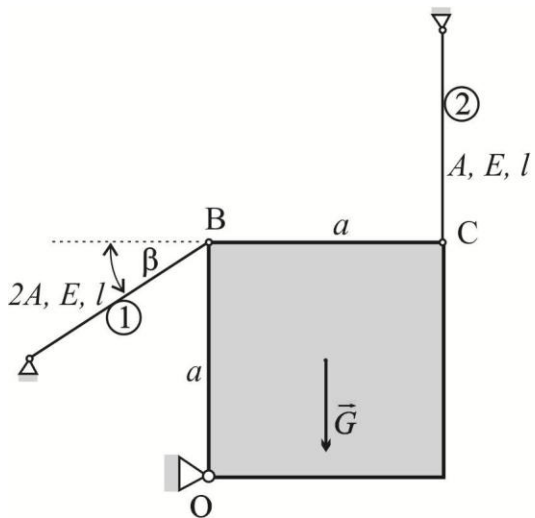
Za prikazan statički neodređen sistem sa aksijalno opterećenim štapovima odrediti napone u štapovima?

Veličine: G, A, E, l, β i a su poznate. Homogena kvadratna ploča težine G stranice a može da se obrće u ravni crteža oko nepokretnog zgloba O.

DRUGI ZADATAK

Za prikazan statički neodređen štap izložen uvijanju odrediti reakcije u uklještenjima A i B (M_A i M_B)?

Veličine: M, G, d i l su poznate.



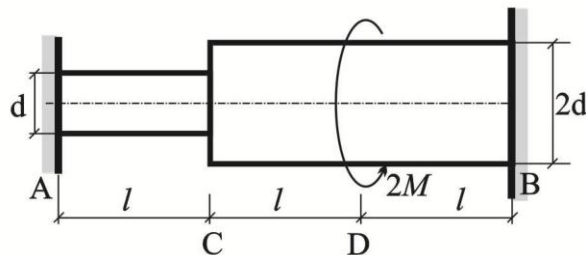
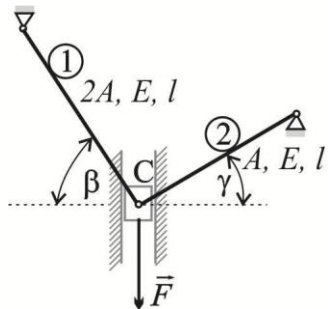
Rad br. 11

PRVI ZADATAK

Za prikazan statički neodređen sistem sa aksijalno opterećenim štapovima odrediti napone u štapovima? Veličine: F , A , E , l , β i γ su poznate. Laki klizač C može da se pomera u vertikalnom pravcu bez trenja.

DRUGI ZADATAK

Za prikazan statički neodređen štap izložen uvijanju odrediti reakcije u uklještenjima A i B (M_A i M_B)? Veličine: M , G , d i l su poznate.



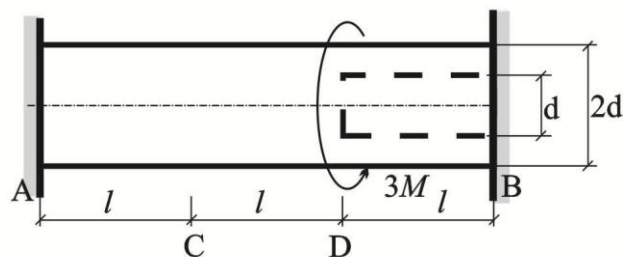
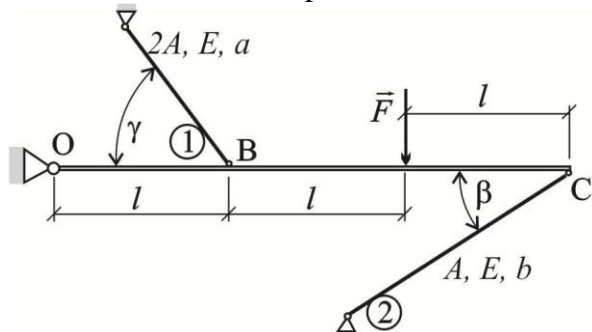
Rad br. 12

PRVI ZADATAK

Za prikazan statički neodređen sistem sa aksijalno opterećenim štapovima odrediti napone u štapovima? Veličine: F , A , E , l , a , b , β i γ su poznate. Laki kruti štap OC može da se obrće u ravni crteža oko nepokretnog zgloba O.

DRUGI ZADATAK

Za prikazan statički neodređen štap izložen uvijanju odrediti reakcije u uklještenjima A i B (M_A i M_B)? Veličine: M , G , d i l su poznate.



Rad br. 13**PRVI ZADATAK**

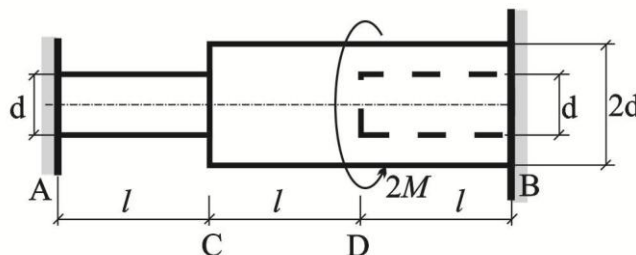
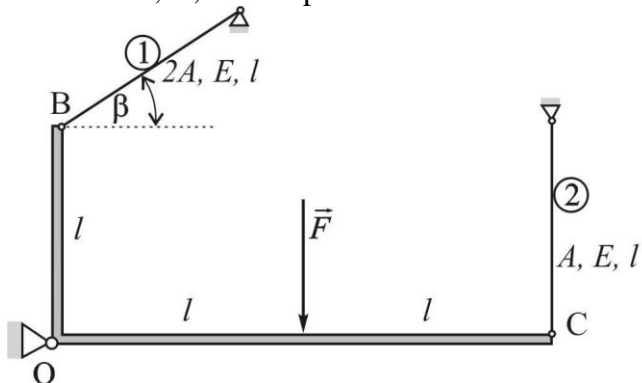
Za prikazan statički neodređen sistem sa aksijalno opterećenim štapovima odrediti napone u štapovima?

Veličine: F , A , E , l i β su poznate. Laki kruti ugaonik BOC može da se obrće u ravni crteža oko nepokretnog zgloba O.

DRUGI ZADATAK

Za prikazan statički neodređen štap izložen uvijanju odrediti reakcije u uklještenjima A i B (M_A i M_B)?

Veličine: M , G , d i l su poznate.

**Rad br. 14****PRVI ZADATAK**

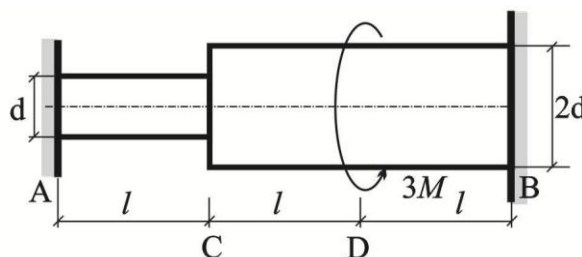
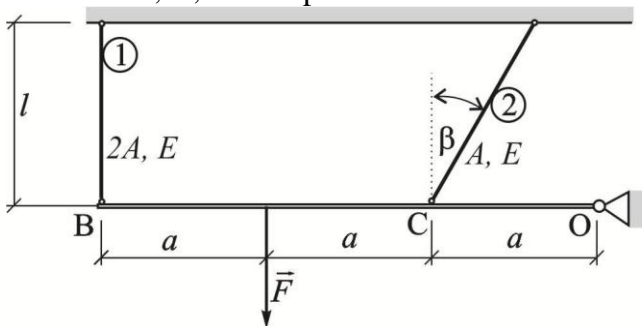
Za prikazan statički neodređen sistem sa aksijalno opterećenim štapovima odrediti napone u štapovima?

Veličine: F , A , E , l , a i β su poznate. Laki kruti štap OB može da se obrće u ravni crteža oko nepokretnog zgloba O.

DRUGI ZADATAK

Za prikazan statički neodređen štap izložen uvijanju odrediti reakcije u uklještenjima A i B (M_A i M_B)?

Veličine: M , G , d i l su poznate.

**Rad br. 15****PRVI ZADATAK**

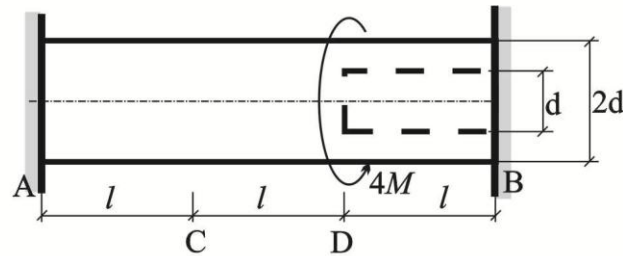
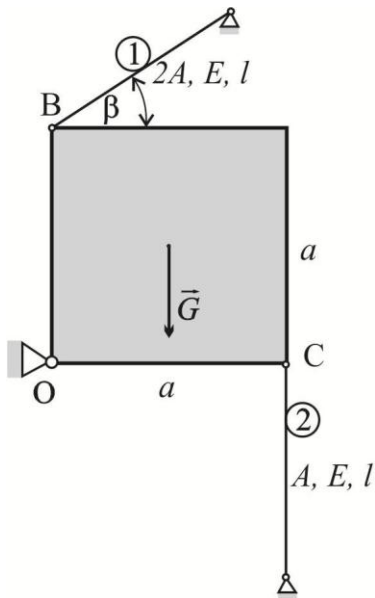
Za prikazan statički neodređen sistem sa aksijalno opterećenim štapovima odrediti napone u štapovima?

Veličine: G , A , E , l , β i a su poznate. Homogena kvadratna ploča težine G stranice a može da se obrće u ravni crteža oko nepokretnog zgloba O.

DRUGI ZADATAK

Za prikazan statički neodređen štap izložen uvijanju odrediti reakcije u uklještenjima A i B (M_A i M_B)?

Veličine: M , G , d i l su poznate.



Rad br. 16

PRVI ZADATAK

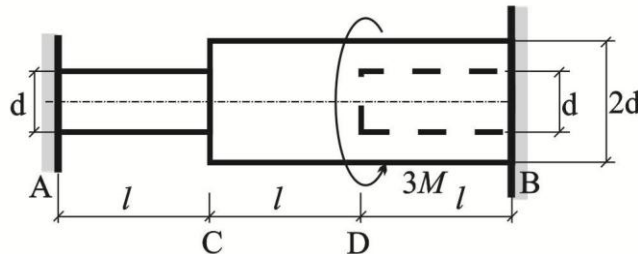
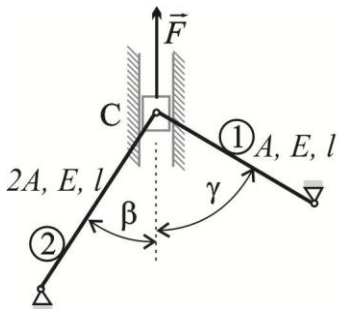
Za prikazan statički neodređen sistem sa aksijalno opterećenim štapovima odrediti napone u štapovima?

Veličine: F, A, E, l, β i γ su poznate. Laki klizač C može da se pomera u vertikalnom pravcu bez trenja.

DRUGI ZADATAK

Za prikazan statički neodređen štap izložen uvijanju odrediti reakcije u uklještenjima A i B (M_A i M_B)?

Veličine: M, G, d i l su poznate.



Rad br. 17

PRVI ZADATAK

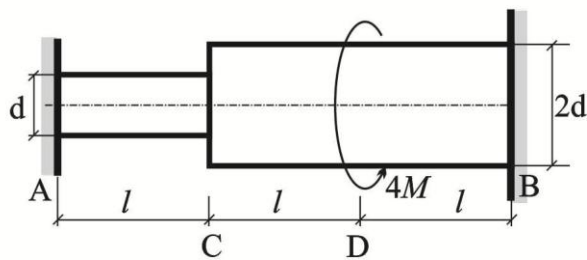
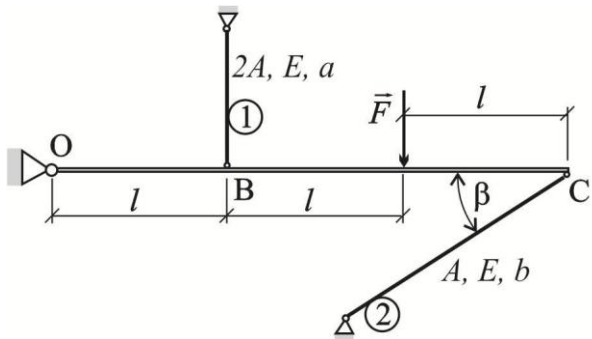
Za prikazan statički neodređen sistem sa aksijalno opterećenim štapovima odrediti napone u štapovima?

Veličine: F, A, E, l, a, b i β su poznate. Laki kruti štap OC može da se obrće u ravni crteža oko nepokretnog zgloba O.

DRUGI ZADATAK

Za prikazan statički neodređen štap izložen uvijanju odrediti reakcije u uklještenjima A i B (M_A i M_B)?

Veličine: M, G, d i l su poznate.



Rad br. 18

PRVI ZADATAK

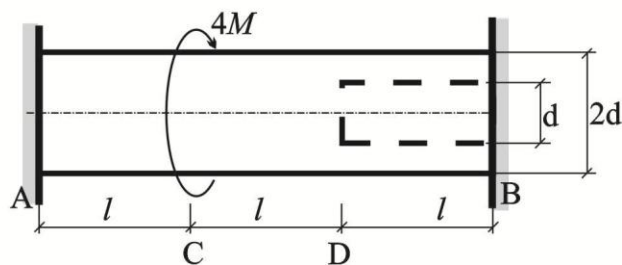
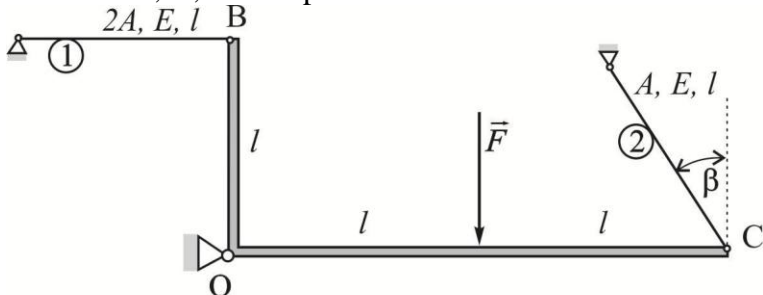
Za prikazan statički neodređen sistem sa aksijalno opterećenim štapovima odrediti napone u štapovima?

Veličine: F , A , E , l i β su poznate. Laki kruti ugaonik BOC može da se obrće u ravni crteža oko nepokretnog zgloba O.

DRUGI ZADATAK

Za prikazan statički neodređen štap izložen uvijanju odrediti reakcije u uklještenjima A i B (M_A i M_B)?

Veličine: M , G , d i l su poznate.



Rad br. 19

PRVI ZADATAK

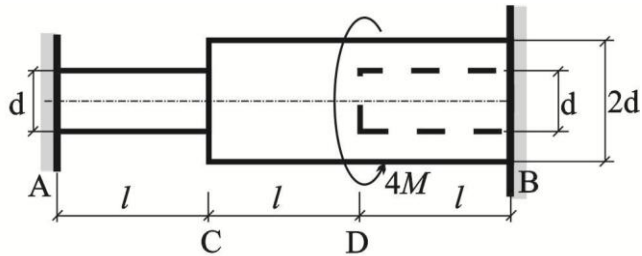
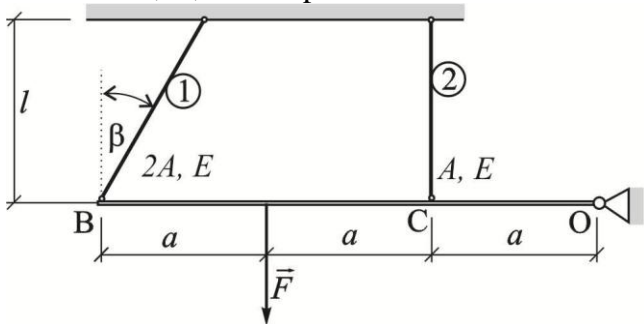
Za prikazan statički neodređen sistem sa aksijalno opterećenim štapovima odrediti napone u štapovima?

Veličine: F , A , E , l , a i β su poznate. Laki kruti štap OB može da se obrće u ravni crteža oko nepokretnog zgloba O.

DRUGI ZADATAK

Za prikazan statički neodređen štap izložen uvijanju odrediti reakcije u uklještenjima A i B (M_A i M_B)?

Veličine: M , G , d i l su poznate.



Rad br. 20**PRVI ZADATAK**

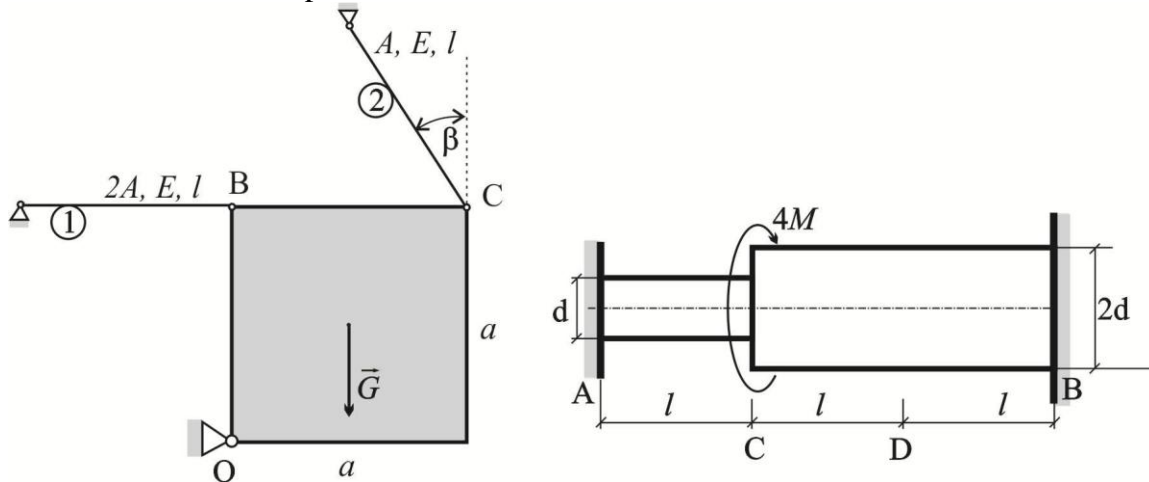
Za prikazan statički neodređen sistem sa aksijalno opterećenim štapovima odrediti napone u štapovima?

Veličine: G, A, E, l, β i a su poznate. Homogena kvadratna ploča težine G stranice a može da se obrće u ravni crteža oko nepokretnog zgloba O .

DRUGI ZADATAK

Za prikazan statički neodređen štap izložen uvijanju odrediti reakcije u uklještenjima A i B (M_A i M_B)?

Veličine: M, G, d i l su poznate.

**Rad br. 21****PRVI ZADATAK**

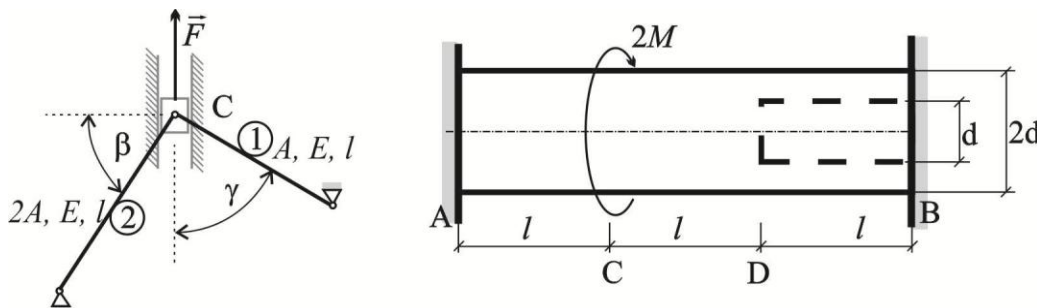
Za prikazan statički neodređen sistem sa aksijalno opterećenim štapovima odrediti napone u štapovima?

Veličine: F, A, E, l, β i γ su poznate. Laki klizač C može da se pomera u vertikalnom pravcu bez trenja.

DRUGI ZADATAK

Za prikazan statički neodređen štap izložen uvijanju odrediti reakcije u uklještenjima A i B (M_A i M_B)?

Veličine: M, G, d i l su poznate.

**Rad br. 22****PRVI ZADATAK**

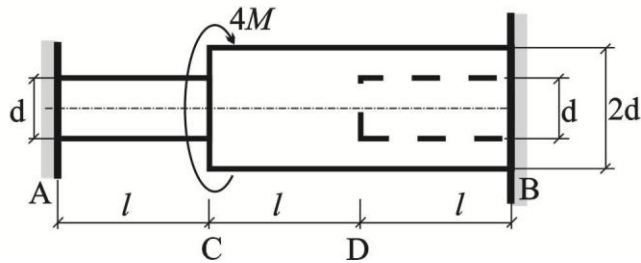
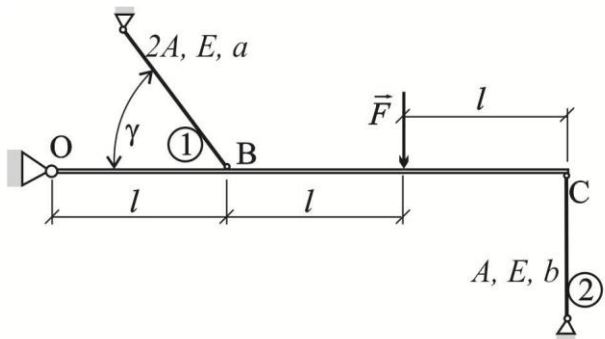
Za prikazan statički neodređen sistem sa aksijalno opterećenim štapovima odrediti napone u štapovima?

Veličine: F, A, E, l, a, b i γ su poznate. Laki kruti štap OC može da se obrće u ravni crteža oko nepokretnog zgloba O .

DRUGI ZADATAK

Za prikazan statički neodređen štap izložen uvijanju odrediti reakcije u uklještenjima A i B (M_A i M_B)?

Veličine: M, G, d i l su poznate.



Rad br. 23

PRVI ZADATAK

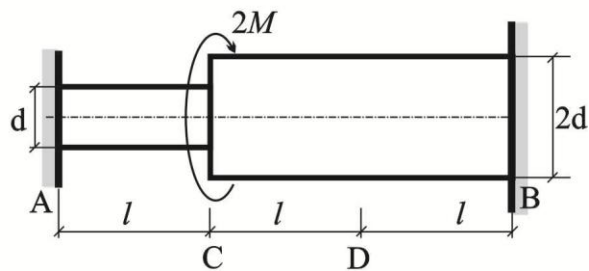
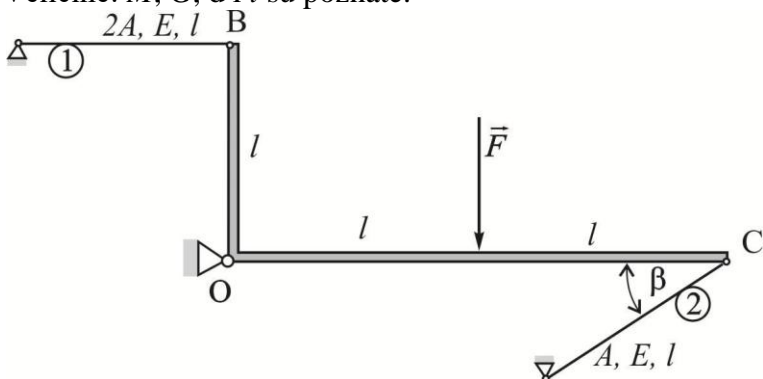
Za prikazan statički neodređen sistem sa aksijalno opterećenim štapovima odrediti napone u štapovima?

Veličine: F, A, E, l i β su poznate. Laki kruti ugaonik BOC može da se obrće u ravni crteža oko nepokretnog zgloba O.

DRUGI ZADATAK

Za prikazan statički neodređen štap izložen uvijanju odrediti reakcije u uklještenjima A i B (M_A i M_B)?

Veličine: M, G, d i l su poznate.



Rad br. 24

PRVI ZADATAK

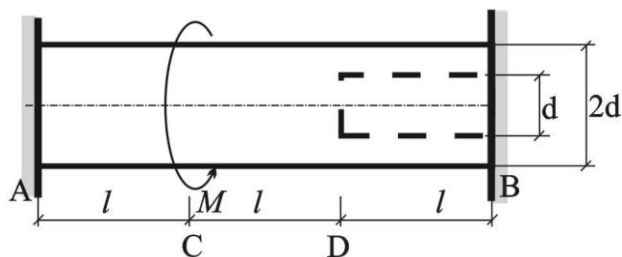
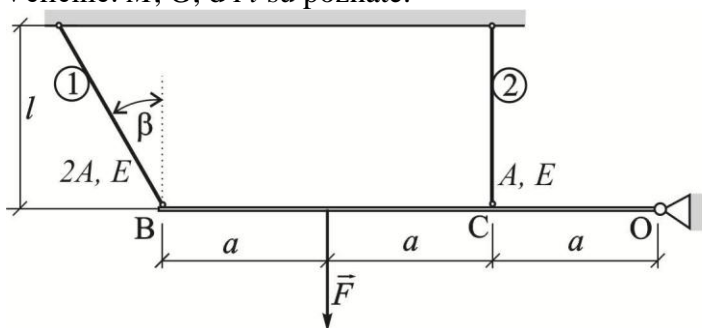
Za prikazan statički neodređen sistem sa aksijalno opterećenim štapovima odrediti napone u štapovima?

Veličine: F, A, E, l, a i β su poznate. Laki kruti štap OB može da se obrće u ravni crteža oko nepokretnog zgloba O.

DRUGI ZADATAK

Za prikazan statički neodređen štap izložen uvijanju odrediti reakcije u uklještenjima A i B (M_A i M_B)?

Veličine: M, G, d i l su poznate.



Rad br. 25**PRVI ZADATAK**

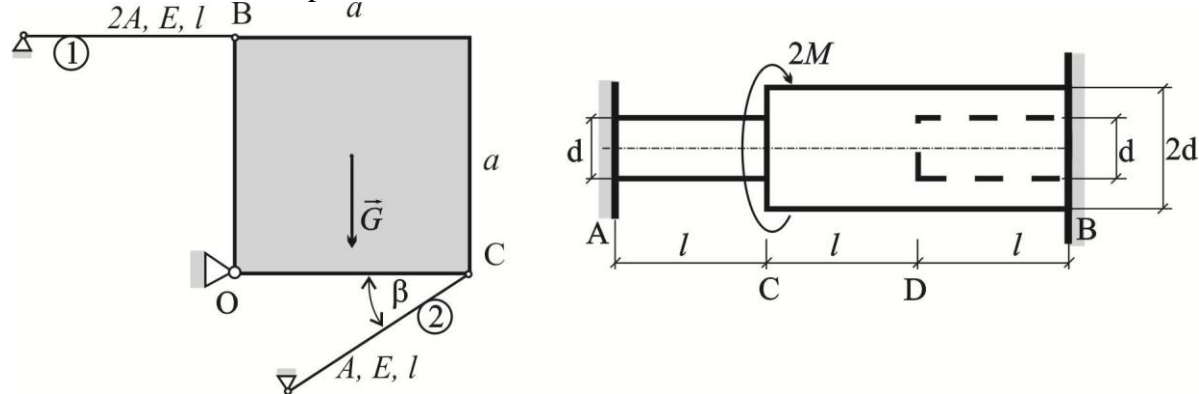
Za prikazan statički neodređen sistem sa aksijalno opterećenim štapovima odrediti napone u štapovima?

Veličine: G, A, E, l, β i a su poznate. Homogena kvadratna ploča težine G stranice a može da se obrće u ravni crteža oko nepokretnog zgloba O .

DRUGI ZADATAK

Za prikazan statički neodređen štap izložen uvijanju odrediti reakcije u uklještenjima A i B (M_A i M_B)?

Veličine: M, G, d i l su poznate.

**Rad br. 26****PRVI ZADATAK**

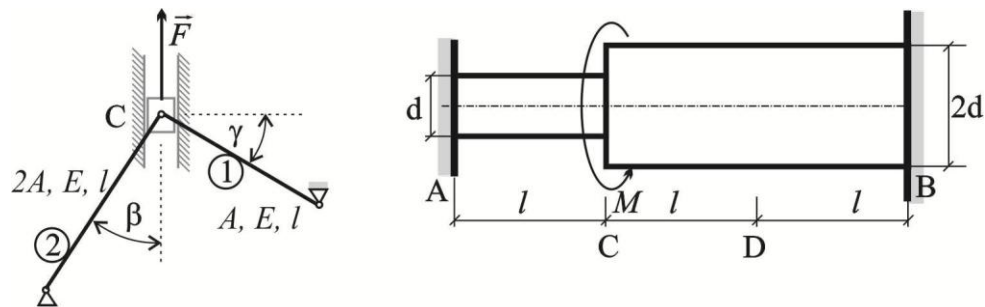
Za prikazan statički neodređen sistem sa aksijalno opterećenim štapovima odrediti napone u štapovima?

Veličine: F, A, E, l, β i γ su poznate. Laki klizač C može da se pomera u vertikalnom pravcu bez trenja.

DRUGI ZADATAK

Za prikazan statički neodređen štap izložen uvijanju odrediti reakcije u uklještenjima A i B (M_A i M_B)?

Veličine: M, G, d i l su poznate.

**Rad br. 27****PRVI ZADATAK**

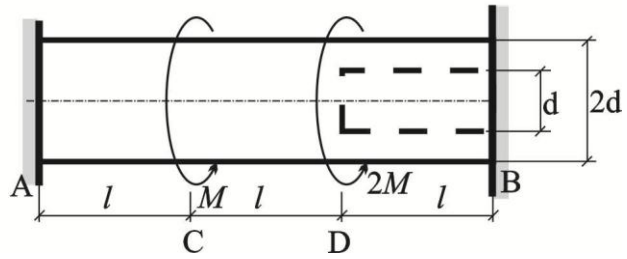
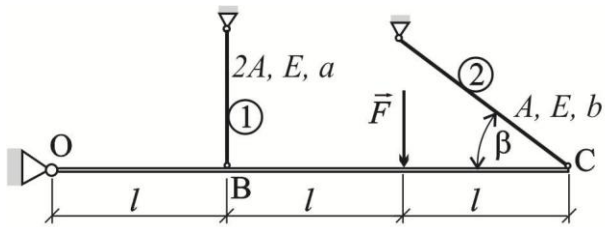
Za prikazan statički neodređen sistem sa aksijalno opterećenim štapovima odrediti napone u štapovima?

Veličine: F, A, E, l, a, b i β su poznate. Laki kruti štap OC može da se obrće u ravni crteža oko nepokretnog zgloba O .

DRUGI ZADATAK

Za prikazan statički neodređen štap izložen uvijanju odrediti reakcije u uklještenjima A i B (M_A i M_B)?

Veličine: M, G, d i l su poznate.



Rad br. 28

PRVI ZADATAK

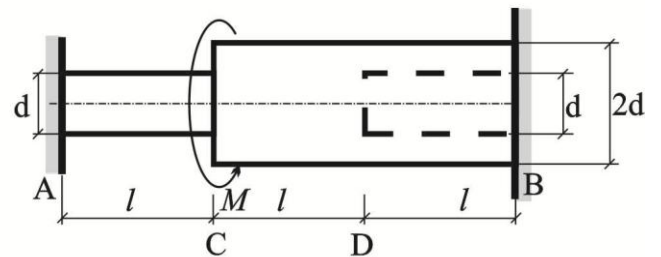
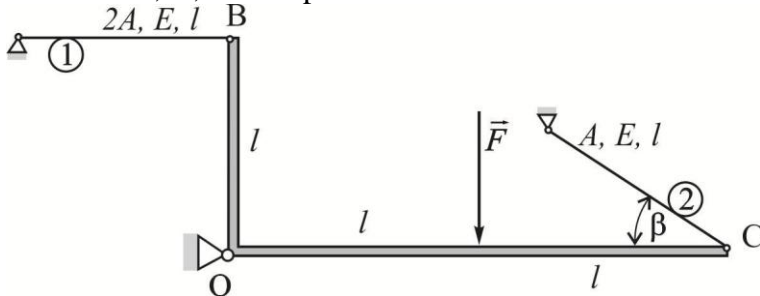
Za prikazan statički neodređen sistem sa aksijalno opterećenim štapovima odrediti napone u štapovima?

Veličine: F , A , E , l i β su poznate. Laki kruti ugaonik BOC može da se obrće u ravni crteža oko nepokretnog zgloba O.

DRUGI ZADATAK

Za prikazan statički neodređen štap izložen uvijanju odrediti reakcije u uklještenjima A i B (M_A i M_B)?

Veličine: M , G , d i l su poznate.



Rad br. 29

PRVI ZADATAK

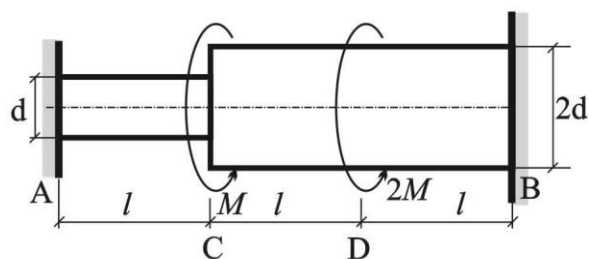
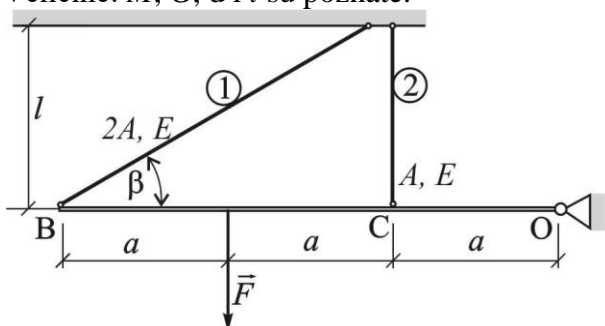
Za prikazan statički neodređen sistem sa aksijalno opterećenim štapovima odrediti napone u štapovima?

Veličine: F , A , E , l , a i β su poznate. Laki kruti štap OB može da se obrće u ravni crteža oko nepokretnog zgloba O.

DRUGI ZADATAK

Za prikazan statički neodređen štap izložen uvijanju odrediti reakcije u uklještenjima A i B (M_A i M_B)?

Veličine: M , G , d i l su poznate.



Rad br. 30

PRVI ZADATAK

Za prikazan statički neodređen sistem sa aksijalno opterećenim štapovima odrediti napone u štapovima?

Veličine: G , A , E , l , β i a su poznate. Homogena kvadratna ploča težine G stranice a može da se obrće u ravni crteža oko nepokretnog zgloba O .

DRUGI ZADATAK

Za prikazan statički neodređen štap izložen uvijanju odrediti reakcije u uklještenjima A i B (M_A i M_B)?

Veličine: M , G , d i l su poznate.

